

# 共立女子第二中学校

2022年度

## 入学試験問題（1回AM）

### 【 社 会 】

試験時間 理科と合計で60分

### 【 注 意 】

- 1 試験開始の合図があるまで、中を見てはいけません。
- 2 問題は1～3で、全部で9ページです。試験中によごれや不足しているページに気づいた場合は、手をあげて監督かんとくの先生を呼んでください。
- 3 解答はすべて解答用紙にはっきりと記入し、解答用紙だけを提出してください。

1. 次の文章を読んで、以下の問いに答えなさい。

昨年（2021年）、1年の延期を経て東京オリンピック・パラリンピックが開催され、スポーツの祭典として多くの感動をもたらしました。また、新たな競技種目やパラアスリートの活躍はスポーツや人間の可能性を強く印象づけるものとなりました。

現在のオリンピックは①4世紀末に途絶えた古代オリンピックをフランス人のクーベルタンが近代オリンピックとして※1再興したものです。そのきっかけは、彼がイギリスでスポーツが青少年の教育に重要な役割を果たしていることを知ったこと、とされています。

スポーツという言葉は、明治政府が「富国強兵」や②「殖産興業」をスローガンとして近代的な国家をつくる際に招かれた「お雇い外国人」によって語学・学問・※2余暇の活用として紹介され、大正時代に定着しました。日本では、軍隊での身体活動を通じての精神の※3鍛錬、学校教育では人材育成のための体育として取り入れられました。外国から紹介されたスポーツの中で、ベースボールは「野球」と訳され、学生野球から始まったこの種目は、競技場に観客を入れ、観るスポーツとしても多くの人々を熱狂させました。ラジオ放送の実況中継や③新聞紙面はその魅力を国民に伝えました。

そもそも日本に限らず人類が身体を動かすことは、生きていくための日々の生活そのものでした。野山を駆け巡り、獲物を仕留めるために石を投げ、小動物をとらえるために④弓矢を使用しました。奈良時代にまとめられた⑤『日本書紀』には相撲の起源とされている「力くらべ」の※4故事として神話が記されています。現在の大相撲の土俵入りや弓取り式に※5神事としての要素がみられるのは興味深いことです。

平安時代に天皇や貴族に仕えることで勢力を拡大した⑥武士は武芸を心身を鍛えるものとして発達させ、鎌倉時代の絵巻物には※6流鏑馬や笠懸など馬に乗りながら訓練を行う武士の様子が描かれています。このように、日本では、身体活動を通して精神を磨き、座禅や能を武士が好んだように、生け花や⑦茶の湯といった楽しみもその道を極める「道」として発展していきました。

神事や訓練として発達した身体運動ですが、一般庶民のあいだでは「遊び」や「娯楽」として楽しまれていたことも知られています。人々は「綱引き」や「鬼ごっこ」に※7興じ、盆踊りも室町時代には行われていたことが知られています。また、身体を用いて表現を行う芸能には、多くの観客が集まり、芝居小屋も設けられるようになります。⑧江戸時代には歌舞伎の役者絵や相撲の力士絵が浮世絵の題材となるほど人気を集めました。

※1 再興…一度衰えたものをもう一度盛んにしたこと

※2 余暇…仕事の合間などの自由に使える時間

※3 鍛錬…きびしい訓練などを通じて精神や身体を鍛えること

※4 故事…昔から伝えられてきた、いわれのある事柄や語句

※5 神事…神を祭る儀礼

※6 流鏑馬・笠懸…ともに馬上からの的を射る訓練や競技

※7 興じ…おもしろがって夢中になる

問1 ①4世紀の頃の日本の様子としてあてはまるものを、次のア)～エ)から1つ選び、記号で答えなさい。

- ア) 奴国の王の使者が中国に行き、皇帝から金印を授けられた。
- イ) 遣唐使によって鑑真が中国から来日した。
- ウ) ヤマト政権の統一が進み、朝鮮半島に出兵した。
- エ) 大宝律令が制定された。

問2 ②「殖産興業」政策によって、近代産業が育成され、資本主義化が進みましたが、「資本主義の父」といわれ、現在の福沢諭吉に代わって2024年より1万円紙幣に用いられる予定の人物の名を答えなさい。

問3 ③新聞について、次の4つの新聞の「記事の見出し」から読み取れることをまとめた「まとめ」の空欄〔 〕にはどのようなことばを入れたらよいと思いますか。自分で考えて15字以内で書きなさい。

記事の見出し (読みやすいように書き改めている)

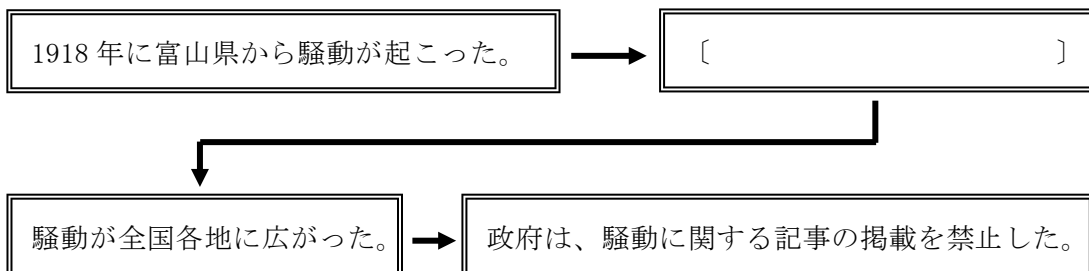
女房連の一揆 米高に堪りかね「餓死する」口々に喚き立て  
『大阪朝日新聞』1918年8月5日

米の暴騰が生んだ 富山の女一揆  
このままでは飢え死にする 生か死の境目だと叫ぶ  
『東京朝日新聞』1918年8月8日

▶神戸暴動(略) ▶舞鶴暴動(略) ▶静岡暴動(略)  
▶福島暴動(略) ▶堺市暴動(略)  
『函館毎日新聞』1918年8月14日

寺内内閣は斯くの如き理由の下に  
各地の米騒擾(騒動)に関する一切の記事掲載を禁止せり(禁止した)  
『大阪朝日新聞』1918年8月15日

まとめ



問4 ④弓矢を使用するようになった時代の説明として正しいものを、次のア)～エ)から1つ選び、記号で答えなさい。

- ア) 人々は、食料を追い求めて朝鮮半島や中国大陸に渡った。
- イ) 表面に縄を転がしてつけた文様の土器を用いるようになった。
- ウ) 本州では稲作が盛んに行われるようになった。
- エ) 死者を埋葬<sup>まいそう</sup>するために古墳が盛んにつくられた。

問5 ⑤『日本書紀』の作成を命じた天武天皇についての説明として正しいものを、次のア)～エ)から1つ選び、記号で答えなさい。

- ア) 憲法十七条を制定して豪族たちに役人としての心がまえを示した。
- イ) 仏教の力によって国を治めるために大仏を造る命令を出した。
- ウ) 平安京に都をうつし、天皇に権力を集中させた。
- エ) 壬申の乱に勝利して、飛鳥で即位<sup>そくい</sup>した。

問6 ⑥武士による政権として鎌倉幕府が誕生し、治安維持<sup>いじ</sup>のために朝廷の許可を得て国ごとに設置されたものは何ですか。なお、この地方官には、御家人が任命されました。

問7 ⑦茶の湯について、武士だけでなく民衆なども広く参加させた北野大茶湯を開いた豊臣秀吉の説明としてまちがっているものを、次のア)～カ)から2つ選び、記号で答えなさい。

- ア) 朝鮮に対して、2度にわたって出兵した。
- イ) 全国統一を果たすと、琵琶湖のほとりに安土城を築いた。
- ウ) 刀狩令を出して、農民から武器を没収<sup>ぼっしゅう</sup>した。
- エ) バテレン追放令を出して、宣教師を国外に追放した。
- オ) 太閤検地を行い、田畑からの収穫量<sup>しゅうかくりょう</sup>や耕作者を把握<sup>はあく</sup>した。
- カ) 武家諸法度を制定して、有力大名をきびしく統制した。

問8 ⑧江戸時代には、長崎を窓口として洋学が盛んになり、医学などが実用の学問として発展しました。前野良沢や杉田玄白によって訳された解剖書<sup>かいぼう</sup>の名を答えなさい。

2. 次の文章を読んで、以下の問いに答えなさい。

昨年（2021年）は、①東日本大震災からちょうど10年目の節目の年でした。テレビや新聞など様々なメディアがこの10年を振り返り、私たちは自然災害の恐ろしさや、防災意識の重要性を再確認しました。②この10年の間にも日本列島各地で様々な災害が起きています。特に、台風や大雨・大雪による被害は、2000年代に入り増え始めています。③個人の防災意識も重要ですが、国としても④温暖化対策など長期的な対策に取り組むことが重要となってくるでしょう。

問1 ①東日本大震災からちょうど10年目の節目の年について、

- (1) 下の2枚の写真は震災前(1977年)と震災後(2020年)に撮影された岩手県宮古市田老地区周辺の航空写真です。2枚の写真を比較して分かることとしてまちがっているものを、次のア)～エ)から1つ選び、記号で答えなさい。なお、地図は上が北である。




国土交通省国土地理院 HP より

- ア) 田老地区は海沿いではあるが丘に囲まれた地域である。  
イ) 北東の高台に新たに住宅地が建設されていることがわかる。  
ウ) 西側の住宅地を見ると、住宅の数が大きく減少していることがわかる。  
エ) 南の田老港は大きな被害を受けたため防波堤も港の機能も失われたままである。
- (2) 東北地方の太平洋側地域で甚大な津波被害が発生した一つの要因として、三陸海岸の特徴的な地形が関係しています。同様の地形がみられる場所を、次のア)～エ)から1つ選び、記号で答えなさい。

- ア) 湘南海岸  
イ) 九十九里浜  
ウ) 有明海  
エ) 若狭湾

- (3) 復興事業が進められるとともに、今後の津波対応策もとられています。津波対応策としてふさわしくないものを、次のア)～エ)から1つ選び、記号で答えなさい。


ア)




イ)



ウ)



エ)



**問2** ②この10年の間にも日本列島各地で様々な災害が起きていますについて、

- (1) 自然災害には、日本の地形や気候も関係しています。日本の地形や気候について述べた文としてまちがっているものを、次のア)～エ)から1つ選び、記号で答えなさい。

- ア) 4つのプレートの境界に存在するため、全国的に地震が起こりやすい。  
イ) 日本列島は太平洋を囲む火山帯の一部なので火山や山脈が多い。  
ウ) 夏から秋にかけて発生する台風は、日本列島付近を通過しやすい。  
エ) 季節風の影<sup>えい</sup>響<sup>きやう</sup>により冬場は日本海側では乾いた晴天の日が続く。

- (2) 7ページの日本地図に示した災害地域・県の暮らしについて述べた文としてまちがっているものを、次のア)～エ)から1つ選び、記号で答えなさい。

- ア) **あ**の地域は、日本最大級の広さを誇る<sup>ほこる</sup>湿原<sup>しつげん</sup>のへりにあり、天然記念物のタンチョウなどが飛来する。  
イ) **い**の県には、高水準の研究と教育を行うため大学や宇宙航空分野の研究機関などが集中する研究学園都市がある。  
ウ) **う**によって、流域の特産として有名なりんごの農家が大きな被害を受けた。  
エ) **え**が起きた地域は、世界有数の規模を誇るカルデラの内側に存在する。

**問3** ③個人の防災意識について、

- (1) 災害が発生した時に、危険と思われる箇<sup>か</sup>所<sup>じょ</sup>や災害時の避難<sup>ひなん</sup>場所などをまとめた地図を何と言いますか、答えなさい。



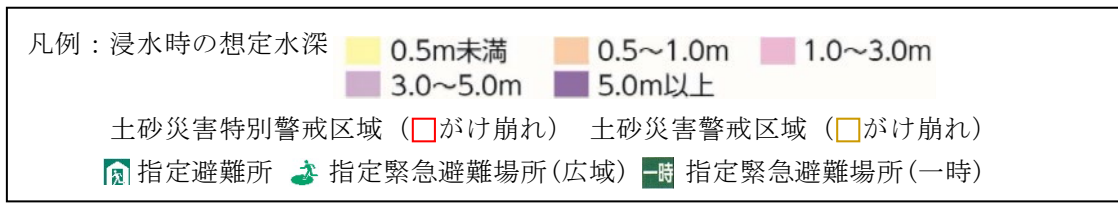
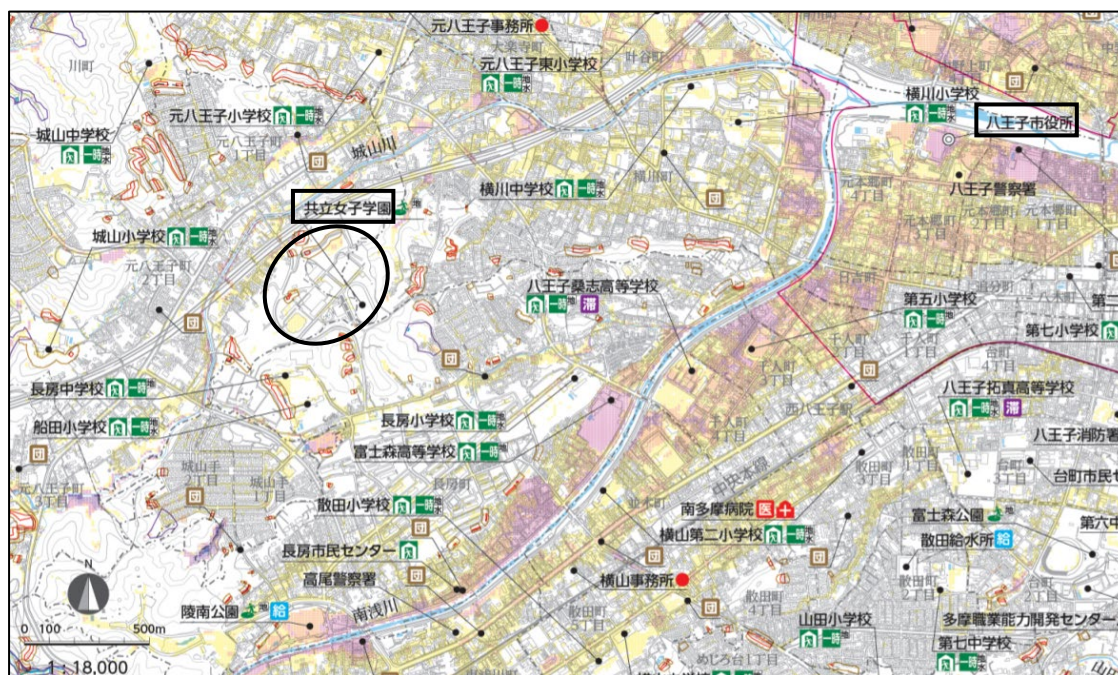
(2) 下の地図から読み取れる内容としてまちがっているものを、次のア)～エ) から1つ選び、記号で答えなさい。

ア) 共立女子第二中学校の校地内では水深3メートル以上の浸水は想定されていない。

イ) 共立女子第二中学校から約半径500メートルの範囲には土砂災害特別警戒区域が複数ある。

ウ) 指定避難所は学校や市民センターが多い。

エ) 八王子市役所は想定浸水深が0.5メートル未満の安全な場所に存在する。

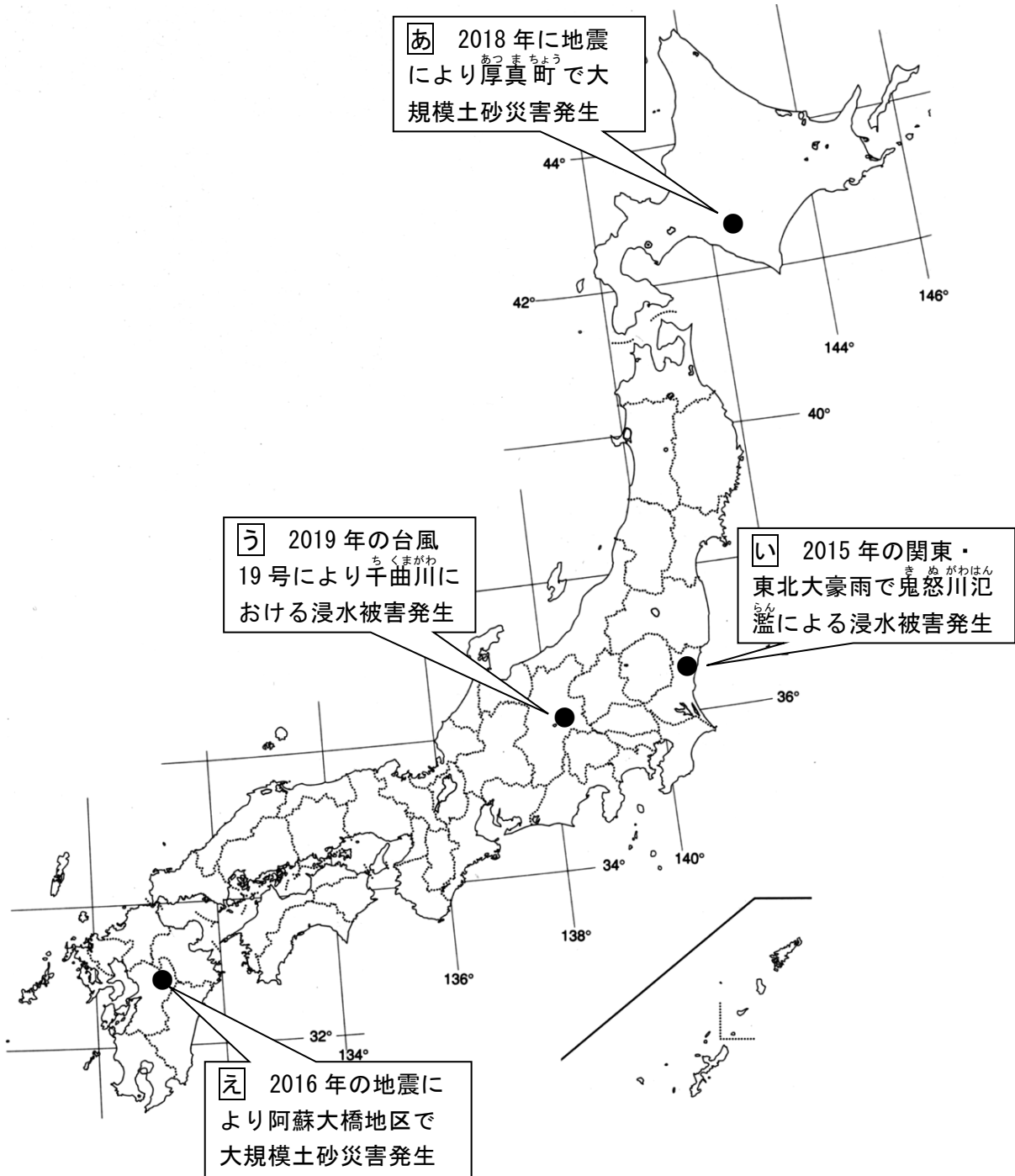


八王子市 HP より作成

問4 ④温暖化対策について、石油会社では水素ステーションの整備をすすめたり、太陽光や風力など石油以外のエネルギーを活用した発電にも取り組んでいます。空欄〔あ〕〔い〕にあてはまる語句を答え、太陽光や風力・水力といったエネルギーの長所と短所をまとめた文を完成させなさい。

長所は資源が尽きて無くなることなく、発電時に地球温暖化の原因と考えられる〔あ〕(という物質)を発生させないことであり、短所は〔い〕条件に左右されやすく安定性に欠けることと、発電に費用がかかることである。

日本地図





3. 次の文章を読んで、以下の問いに答えなさい。

昨年（2021年）10月14日に①衆議院が解散されました。その後、〔 ② 〕首相が「新しい③資本主義」などを掲げて行われた④衆議院議員総選挙では、与党である自民党と公明党の両党で過半数を確保しました。この結果を受けて、首相の指名選挙を行う〔 ⑤ 〕国会が、11月10日に召集されました。

⑥衆議院議員の任期満了を越えての衆議院議員総選挙は、⑦現行の憲法のもとでは初めてでした。

問1 ①衆議院が解散とありますが、どのような意味ですか。正しいものを、次のア)～エ) から1つ選び、記号で答えなさい。

- ア) 衆議院議員の人数を増やしたり減らしたりすること。
- イ) すべての衆議院議員の資格をいっせいに失わせること。
- ウ) 半数の衆議院議員を選挙で選び直すこと。
- エ) すべての国会議員の資格をいっせいに失わせること。

問2 文章中の〔 ② 〕に入る人物名を漢字（フルネーム）で答えなさい。

問3 ③資本主義と違い、生産活動などを政府が計画的に運営していく経済のしくみを「〇〇主義」といいます。〇〇に入る語句を漢字2字で答えなさい。

問4 ④衆議院議員総選挙について、

(1) 現在の選挙の原則としてまちがっているものを、次のア)～エ) から1つ選び、記号で答えなさい。

- ア) 普通選挙                      イ) 秘密選挙                      ウ) 制限選挙                      エ) 平等選挙

(2) 現在の衆議院議員総選挙のしくみとして正しいものを、次のア)～エ) から1つ選び、記号で答えなさい。

- ア) 選挙に立候補できるのは、満30歳以上の国民である。
- イ) 小選挙区制で当選するのは、1つの選挙区で1人だけである。
- ウ) 比例代表制では、政党名を書いて投票することはできない。
- エ) この選挙と同時に各都道府県知事に対する国民審査が行われる。

問5 文章中の〔 ⑤ 〕に入る国会の種類を漢字2字で答えなさい。

問6 ⑥衆議院議員の任期は何年ですか。正しいものを、次のア)～エ)から1つ選び、記号で答えなさい。

ア) 2年                      イ) 4年                      ウ) 6年                      エ) 10年

問7 ⑦現行の憲法の三大原則としてまちがっているものを、次のア)～エ)から1つ選び、記号で答えなさい。

ア) 国民主権              イ) 三権分立              ウ) 平和主義              エ) 基本的人権の尊重